

공부기초력을 키우는
교과서 워크북

개념이 자라는
교과서
워크북

4-1



개념

교과서 워크북

4-1



1 안에 알맞은 수나 말을 써넣으세요.

1000이 10개인 수를 또는 1만이라 쓰고, 또는 일만이라고 읽습니다.

2 그림을 보고 안에 알맞은 수를 써넣으세요.



10000은 9900보다 만큼 더 큰 수입니다.

3 다음을 수로 나타내고 읽어 보세요.

10000이 9개, 1000이 2개, 100이 1개, 10이 8개, 1이 6개인 수

쓰기 _____

읽기 _____

4 71583을 각 자리의 숫자가 나타내는 값의 합으로 나타내어 보세요.

만의 자리	천의 자리	백의 자리	십의 자리	일의 자리
7	1	5	8	3

$$71583 = 70000 + 1000 + \boxed{} + \boxed{} + \boxed{}$$



1 같은 수끼리 이어 보세요.

10000이 10개인 수	•	1000만
10000이 100개인 수	•	100만
10000이 1000개인 수	•	10만

2 12830000을 각 자리의 숫자가 나타내는 값의 합으로 나타내어 보세요.

1	2	8	3	0	0	0	0
천	백	십	일	천	백	십	일
만				일			

12830000 = + 2000000 + 800000 +

3 빈 곳에 알맞은 수나 말을 써넣으세요.

(1) →

(2) →

0인 자리는
읽지 않아요.

4 보기와 같이 수를 나타내어 보세요.

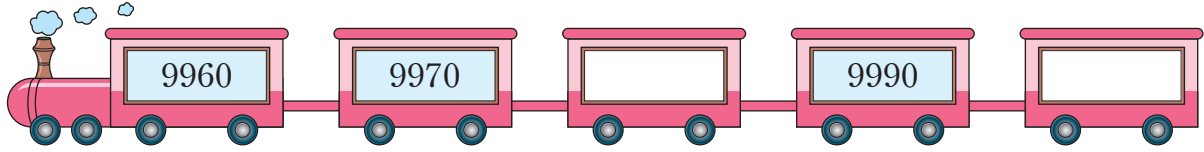
보기

천오백육십팔만 → 1568만 → 15680000

이천칠십사만 → _____ → _____

읽지 않은 자리에
0을 써요.

1 규칙에 따라 빈칸에 알맞은 수를 써넣으세요.



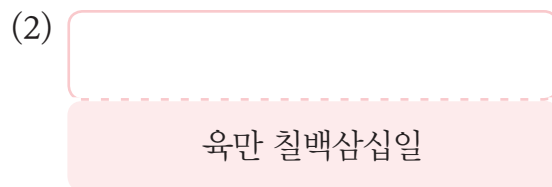
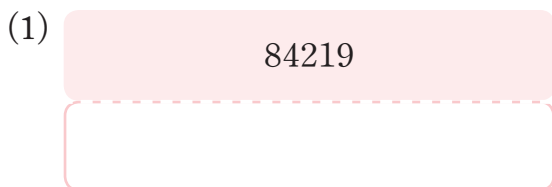
2 10000원이 되려면 각각의 돈이 얼마만큼 필요한지 써 보세요.



3 안에 알맞은 수를 써넣으세요.

10000이 6개
1000이 8개
100이 2개 인 수는 입니다.
10이 7개
1이 3개

4 빈칸에 알맞은 수나 말을 써넣으세요.



5 수를 보고 물음에 답하세요.

41059

(1) 만의 자리 숫자는 무엇일까요?

()

(2) 숫자 5가 나타내는 값을 써 보세요.

()

1
단원

6 80915의 각 자리의 숫자와 나타내는 값을 알아보려고 합니다. 빈칸에 알맞은 수를 써 넣으세요.

	만의 자리	천의 자리	백의 자리	십의 자리	일의 자리
숫자	8				
나타내는 값	80000				

7 **보기**와 같이 각 자리의 숫자가 나타내는 값의 합으로 나타내어 보세요.

보기
 $57842 = 50000 + 7000 + 800 + 40 + 2$

(1) $37925 = \square + 7000 + \square + \square + \square$

(2) $48071 = 40000 + 8000 + \square + \square$

오늘도 멋졌어!
환팅♡



8 관계있는 것끼리 이어 보세요.

10000이 10개인 수

100000

10000이 1000개인 수

1000000

10000이 100개인 수

10000000

9 빈칸에 알맞은 수나 말을 써넣으세요.

(1)

76530000

(2)

팔천육백구십칠만

10 수를 보고 □ 안에 알맞은 수를 써넣으세요.

95173602

(1) 만이 □ 개, 일이 □ 개인 수입니다.

(2) 천만의 자리 숫자는 □ 이고, □ 을 나타냅니다.

